

MUSÉE



DU



GÉNIE

Parcours au musée du Génie – Niveau 3^{ème}

Mme Bossard, M. Bossard, Mme Moreau

Enseignants en histoire géographie

Collège La Madeleine - Angers

NOM :

PRÉNOM :

FÉVRIER 2011

CLASSE :



24 rue Saumuroise 49000 ANGERS

Tel: 02 41 79 77 24

Mail : la-madeleine.angers@49.scolanet.org

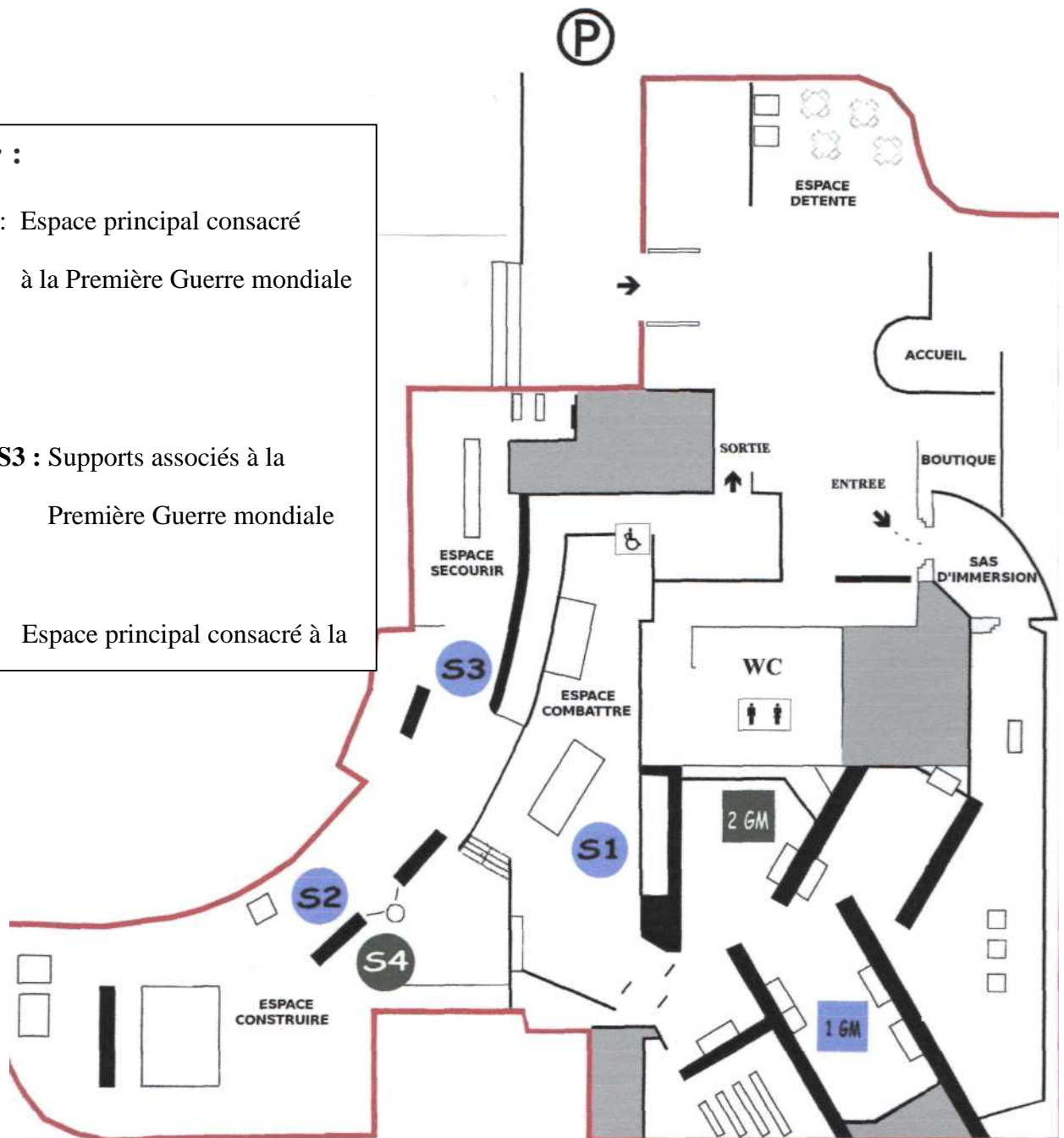
Plan du Musée :

Légende :

1 GM : Espace principal consacré
à la Première Guerre mondiale

S1, S2, S3 : Supports associés à la
Première Guerre mondiale

2 GM : Espace principal consacré à la



En vous aidant de ce plan, retrouvez les différents espaces et supports du musée afin de répondre aux questions de ce dossier. Vous rédigerez soigneusement vos réponses.

- Dans le hall d'entrée, arrêtez-vous devant ce tableau du « Père du Génie ».



1°) Quel personnage est représenté sur ce tableau ? A quel siècle a-t-il vécu ?

.....
.....

2°) Quels éléments prouvent que ce personnage est un militaire ?

.....
.....
.....
.....


3°) Quel élément du tableau symbolise le grand bâtisseur ?

.....
.....

4°) Quel objet le personnage tient-il dans sa main droite ? Quelle est la signification ?

.....
.....
.....

- A partir des différentes photos du sas d'immersion, retrouvez les trois missions du Génie. Pour chacune d'elles donnez un exemple concret d'action.



- 1^{ère} mission :

.....

- 2^{ème} mission :

.....

- 3^{ème} mission :

.....

- Quelle est donc la devise des hommes du Génie ?

.....



Le Génie et la Première Guerre mondiale

- Panneau : le Génie au cœur de la Première Guerre mondiale :

1°) Quelles sont les trois phases de la Première Guerre mondiale ? Précisez les dates.

-
-
-

2°) Quels sont les principaux belligérants de la Première Guerre mondiale ?

.....
.....
.....

3°) Quelles ont été les missions du Génie dans le cadre de la guerre de tranchées ?



-
-
-
-

-

.....

- Regardez la vidéo sur la guerre des mines et répondez aux questions suivantes :

1°) Qu'appelle-t-on la guerre des mines ?

.....
.....
.....
.....

2°) Dans quelle région est-elle illustrée ici ?

.....

3°) A quelle phase de la Première Guerre mondiale cette guerre des mines appartient-elle ?

.....

4°) a) Retrouvez l'objet dans l'espace S1 (voir plan) qui évoque ce haut lieu de la guerre des mines et donnez son nom.

.....



b) Quelle était l'utilité de ces reliefs lors de la guerre ?

.....
.....
.....

c) Regardez-le attentivement. Donnez deux noms de tranchées diabolisant les Allemands.

-
-

- Vitrine consacrée au Maréchal Joffre :



1°) Qui était Joffre ?

.....
.....
.....

2°) Quels objets ayant appartenu au Maréchal Joffre sont présentés dans ce musée ?

.....
.....
.....
.....

3°) Recherchez à proximité un autre objet se rapportant à Joffre. Présentez l'histoire particulière de cet objet.

.....
.....
.....
.....

- Vitrine sur les objets de la Première Guerre mondiale :

Quels sont les objets présentés dans cette vitrine ? Nommez-les et classez les dans le tableau ci –dessous

Objets utiles à la guerre	Objets de la vie quotidienne

Un mannequin d'un poilu de la Première Guerre mondiale :



1°) Quels éléments traduisent l'adaptation de l'équipement à une guerre violente ?

.....

.....

.....

.....

2°) Retrouvez dans l'espace thématique (S3) un élément de l'équipement du poilu. Nommez-le. En quelles matières est-il ?

.....
.....
.....
.....

- **Retrouvez dans le musée ce support en S2 :**



Qui sont ces deux sapeurs ? A quel régiment appartenaient-ils ? Quelle décoration ont-ils reçue ? Pourquoi ?

.....
.....
.....
.....
.....
.....

Le Génie et la Seconde Guerre mondiale :



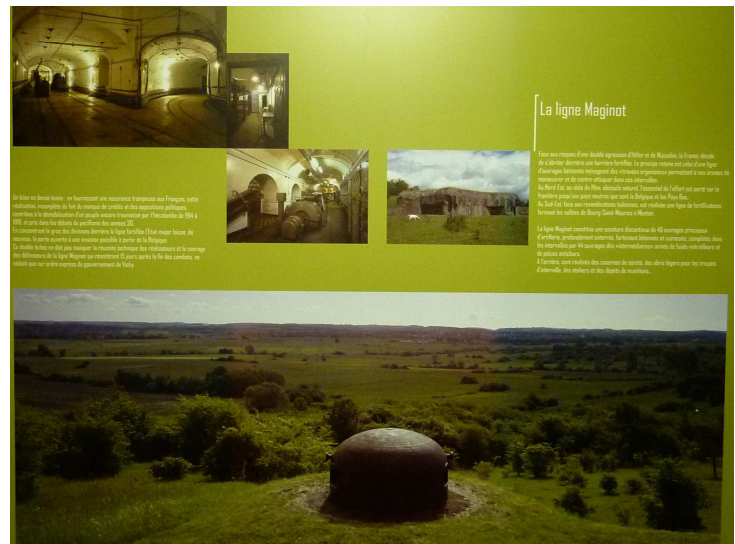
• La ligne Maginot :

1°) Qui a été chargé de sa construction?

.....

.....

.....



2°) Où et quand a-t-elle été construite ?

.....

.....

3°) Quelle stratégie illustre-t-elle ? Pourquoi ce choix a-t-il été fait ?

.....

.....

.....

4°) De combien d'ouvrages se compose-t-elle ?

.....

- **Retrouvez dans l'espace consacré à la Seconde Guerre mondiale ces deux mannequins. Décrivez et comparez l'équipement de ces deux soldats.**



Mannequin dans une tenue de Sergent en 1940



Mannequin de démineur français (1944-1945)

Mannequin dans une tenue de Sergent en 1940	Mannequin de démineur français (1944-1945)

- **Jean Moulin :**

Qui était Jean Moulin ?

Pourquoi un espace lui est consacré dans ce musée ?

.....
.....
.....
.....



- **A partir des différents espaces et supports, donnez des exemples d'actions du Génie durant la Seconde Guerre mondiale. Précisez, pour chacune, à quelle mission du Génie elle appartient.**

-
.....
-
.....
-
.....
-
.....
-
.....
-
.....
-
.....

Les nouvelles missions de la Défense nationale et du Génie

- On l'appelle EOD 78 . Son poids est de 39 kilos. Il est dans l'espace « combattre » du musée.

De quoi s'agit-il ?

.....
.....
.....
.....



Retrouvez ces drôles de chaussures ? Quelle est leur utilité ?

.....
.....
.....

Qu'est-ce que cela nous révèle sur l'une des principales missions actuelles des militaires du Génie ?

.....
.....

Pour quelle organisation internationale les militaires du Génie exercent-ils souvent cette mission ?

.....



Combien d'engins de ce genre, les militaires du Génie sont-ils censés pouvoir neutraliser ?

.....

Combien d'années de formation doivent-ils suivre pour cela ?